



Determine if the fraction shown is 'less', 'more' or 'equal' to half.

Answers

Ex) $\frac{3}{6}$

1) $\frac{4}{5}$

2) $\frac{1}{10}$

Ex. equal

1. _____

2. _____

3) $\frac{3}{4}$

4) $\frac{1}{3}$

5) $\frac{2}{5}$

3. _____

4. _____

6) $\frac{4}{6}$

7) $\frac{4}{12}$

8) $\frac{3}{5}$

6. _____

7. _____

9) $\frac{10}{12}$

10) $\frac{1}{5}$

11) $\frac{2}{4}$

9. _____

10. _____

11. _____

12) $\frac{8}{12}$

13) $\frac{6}{10}$

14) $\frac{1}{8}$

12. _____

13. _____

14. _____

15) $\frac{5}{8}$

16) $\frac{8}{10}$

17) $\frac{1}{4}$

15. _____

16. _____

17. _____

18) $\frac{2}{8}$

19) $\frac{1}{6}$

20) $\frac{2}{10}$

18. _____

19. _____

20. _____



Determine if the fraction shown is 'less', 'more' or 'equal' to half.

Ex) $\frac{3}{6}$

1) $\frac{4}{5}$

2) $\frac{1}{10}$

3) $\frac{3}{4}$

4) $\frac{1}{3}$

5) $\frac{2}{5}$

6) $\frac{4}{6}$

7) $\frac{4}{12}$

8) $\frac{3}{5}$

9) $\frac{10}{12}$

10) $\frac{1}{5}$

11) $\frac{2}{4}$

12) $\frac{8}{12}$

13) $\frac{6}{10}$

14) $\frac{1}{8}$

15) $\frac{5}{8}$

16) $\frac{8}{10}$

17) $\frac{1}{4}$

18) $\frac{2}{8}$

19) $\frac{1}{6}$

20) $\frac{2}{10}$

Answers

Ex. equal

1. more

2. less

3. more

4. less

5. less

6. more

7. less

8. more

9. more

10. less

11. equal

12. more

13. more

14. less

15. more

16. more

17. less

18. less

19. less

20. less



Determine if the fraction shown is 'less', 'more' or 'equal' to half.

Answers

Ex) $\frac{2}{6}$

1) $\frac{1}{4}$

2) $\frac{1}{5}$

Ex. less

3) $\frac{3}{10}$

4) $\frac{5}{12}$

5) $\frac{7}{12}$

1. _____

6) $\frac{1}{3}$

7) $\frac{2}{3}$

8) $\frac{2}{8}$

2. _____

9) $\frac{2}{12}$

10) $\frac{3}{5}$

11) $\frac{6}{8}$

3. _____

12) $\frac{6}{10}$

13) $\frac{2}{4}$

14) $\frac{3}{4}$

4. _____

15) $\frac{11}{12}$

16) $\frac{7}{8}$

17) $\frac{2}{10}$

5. _____

18) $\frac{2}{5}$

19) $\frac{5}{8}$

20) $\frac{4}{12}$

6. _____

7. _____

8. _____

9. _____

10. _____

11. _____

12. _____

13. _____

14. _____

15. _____

16. _____

17. _____

18. _____

19. _____

20. _____



Determine if the fraction shown is 'less', 'more' or 'equal' to half.

Ex) $\frac{2}{6}$

1) $\frac{1}{4}$

2) $\frac{1}{5}$

3) $\frac{3}{10}$

4) $\frac{5}{12}$

5) $\frac{7}{12}$

6) $\frac{1}{3}$

7) $\frac{2}{3}$

8) $\frac{2}{8}$

9) $\frac{2}{12}$

10) $\frac{3}{5}$

11) $\frac{6}{8}$

12) $\frac{6}{10}$

13) $\frac{2}{4}$

14) $\frac{3}{4}$

15) $\frac{11}{12}$

16) $\frac{7}{8}$

17) $\frac{2}{10}$

18) $\frac{2}{5}$

19) $\frac{5}{8}$

20) $\frac{4}{12}$

Answers

Ex. less

1. less

2. less

3. less

4. less

5. more

6. less

7. more

8. less

9. less

10. more

11. more

12. more

13. equal

14. more

15. more

16. more

17. less

18. less

19. more

20. less



Determine if the fraction shown is 'less', 'more' or 'equal' to half.

Answers

Ex) $\frac{6}{12}$

1) $\frac{3}{4}$

2) $\frac{1}{5}$

Ex. equal

1. _____

2. _____

3) $\frac{2}{8}$

4) $\frac{2}{3}$

5) $\frac{1}{3}$

3. _____

4. _____

6) $\frac{8}{10}$

7) $\frac{8}{12}$

8) $\frac{3}{5}$

6. _____

7. _____

9) $\frac{4}{8}$

10) $\frac{4}{10}$

11) $\frac{2}{10}$

9. _____

10. _____

11. _____

12) $\frac{2}{4}$

13) $\frac{9}{12}$

14) $\frac{1}{6}$

12. _____

13. _____

14. _____

15) $\frac{4}{5}$

16) $\frac{5}{8}$

17) $\frac{6}{8}$

15. _____

16. _____

17. _____

18) $\frac{4}{12}$

19) $\frac{2}{5}$

20) $\frac{7}{8}$

18. _____

19. _____

20. _____



Determine if the fraction shown is 'less', 'more' or 'equal' to half.

Ex) $\frac{6}{12}$

1) $\frac{3}{4}$

2) $\frac{1}{5}$

Answers
Ex. equal

1. more

2. less

3) $\frac{2}{8}$

4) $\frac{2}{3}$

5) $\frac{1}{3}$

3. less

4. more

6) $\frac{8}{10}$

7) $\frac{8}{12}$

8) $\frac{3}{5}$

5. less

6. more

7. more

9) $\frac{4}{8}$

10) $\frac{4}{10}$

11) $\frac{2}{10}$

8. more

9. equal

10. less

11. less

12) $\frac{2}{4}$

13) $\frac{9}{12}$

14) $\frac{1}{6}$

12. equal

13. more

14. less

15) $\frac{4}{5}$

16) $\frac{5}{8}$

17) $\frac{6}{8}$

15. more

16. more

17. more

18) $\frac{4}{12}$

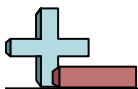
19) $\frac{2}{5}$

20) $\frac{7}{8}$

18. less

19. less

20. more



Determine if the fraction shown is 'less', 'more' or 'equal' to half.

Answers

Ex) $\frac{1}{4}$

1) $\frac{9}{12}$

2) $\frac{2}{5}$

Ex. less

1. _____

2. _____

3) $\frac{5}{8}$

4) $\frac{3}{12}$

5) $\frac{2}{6}$

3. _____

4. _____

6) $\frac{3}{8}$

7) $\frac{2}{8}$

8) $\frac{6}{12}$

6. _____

7. _____

9) $\frac{5}{6}$

10) $\frac{2}{3}$

11) $\frac{7}{12}$

9. _____

10. _____

11. _____

12) $\frac{4}{5}$

13) $\frac{1}{6}$

14) $\frac{4}{8}$

12. _____

13. _____

14. _____

15) $\frac{1}{3}$

16) $\frac{1}{10}$

17) $\frac{8}{12}$

15. _____

16. _____

17. _____

18) $\frac{4}{12}$

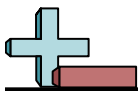
19) $\frac{5}{10}$

20) $\frac{6}{8}$

18. _____

19. _____

20. _____



Determine if the fraction shown is 'less', 'more' or 'equal' to half.

Ex) $\frac{1}{4}$

1) $\frac{9}{12}$

2) $\frac{2}{5}$

3) $\frac{5}{8}$

4) $\frac{3}{12}$

5) $\frac{2}{6}$

6) $\frac{3}{8}$

7) $\frac{2}{8}$

8) $\frac{6}{12}$

9) $\frac{5}{6}$

10) $\frac{2}{3}$

11) $\frac{7}{12}$

12) $\frac{4}{5}$

13) $\frac{1}{6}$

14) $\frac{4}{8}$

15) $\frac{1}{3}$

16) $\frac{1}{10}$

17) $\frac{8}{12}$

18) $\frac{4}{12}$

19) $\frac{5}{10}$

20) $\frac{6}{8}$

Answers

Ex. less

1. more

2. less

3. more

4. less

5. less

6. less

7. less

8. equal

9. more

10. more

11. more

12. more

13. less

14. equal

15. less

16. less

17. more

18. less

19. equal

20. more



Determine if the fraction shown is 'less', 'more' or 'equal' to half.

Answers

Ex) $\frac{1}{5}$

1) $\frac{3}{12}$

2) $\frac{2}{3}$

Ex. less

1. _____

2. _____

3) $\frac{1}{6}$

4) $\frac{7}{8}$

5) $\frac{7}{10}$

3. _____

4. _____

6) $\frac{2}{6}$

7) $\frac{3}{5}$

8) $\frac{6}{10}$

6. _____

7. _____

9) $\frac{5}{8}$

10) $\frac{1}{12}$

11) $\frac{5}{12}$

9. _____

10. _____

11. _____

12) $\frac{10}{12}$

13) $\frac{2}{4}$

14) $\frac{2}{12}$

12. _____

13. _____

14. _____

15) $\frac{4}{5}$

16) $\frac{2}{5}$

17) $\frac{5}{6}$

15. _____

16. _____

17. _____

18) $\frac{2}{8}$

19) $\frac{8}{10}$

20) $\frac{1}{4}$

18. _____

19. _____

20. _____



Determine if the fraction shown is 'less', 'more' or 'equal' to half.

Ex) $\frac{1}{5}$

1) $\frac{3}{12}$

2) $\frac{2}{3}$

3) $\frac{1}{6}$

4) $\frac{7}{8}$

5) $\frac{7}{10}$

6) $\frac{2}{6}$

7) $\frac{3}{5}$

8) $\frac{6}{10}$

9) $\frac{5}{8}$

10) $\frac{1}{12}$

11) $\frac{5}{12}$

12) $\frac{10}{12}$

13) $\frac{2}{4}$

14) $\frac{2}{12}$

15) $\frac{4}{5}$

16) $\frac{2}{5}$

17) $\frac{5}{6}$

18) $\frac{2}{8}$

19) $\frac{8}{10}$

20) $\frac{1}{4}$

Answers

Ex. less

1. less

2. more

3. less

4. more

5. more

6. less

7. more

8. more

9. more

10. less

11. less

12. more

13. equal

14. less

15. more

16. less

17. more

18. less

19. more

20. less



Determine if the fraction shown is 'less', 'more' or 'equal' to half.

Answers

Ex) $\frac{1}{8}$

1) $\frac{5}{10}$

2) $\frac{1}{5}$

Ex. less

1. _____

2. _____

3) $\frac{4}{8}$

4) $\frac{2}{6}$

5) $\frac{2}{5}$

3. _____

4. _____

6) $\frac{5}{12}$

7) $\frac{2}{3}$

8) $\frac{6}{8}$

6. _____

7. _____

9) $\frac{3}{8}$

10) $\frac{3}{4}$

11) $\frac{2}{4}$

9. _____

10. _____

11. _____

12) $\frac{3}{10}$

13) $\frac{2}{8}$

14) $\frac{3}{5}$

12. _____

13. _____

14. _____

15) $\frac{1}{3}$

16) $\frac{1}{10}$

17) $\frac{9}{10}$

15. _____

16. _____

17. _____

18) $\frac{1}{4}$

19) $\frac{1}{6}$

20) $\frac{5}{6}$

18. _____

19. _____

20. _____



Determine if the fraction shown is 'less', 'more' or 'equal' to half.

Ex) $\frac{1}{8}$

1) $\frac{5}{10}$

2) $\frac{1}{5}$

3) $\frac{4}{8}$

4) $\frac{2}{6}$

5) $\frac{2}{5}$

6) $\frac{5}{12}$

7) $\frac{2}{3}$

8) $\frac{6}{8}$

9) $\frac{3}{8}$

10) $\frac{3}{4}$

11) $\frac{2}{4}$

12) $\frac{3}{10}$

13) $\frac{2}{8}$

14) $\frac{3}{5}$

15) $\frac{1}{3}$

16) $\frac{1}{10}$

17) $\frac{9}{10}$

18) $\frac{1}{4}$

19) $\frac{1}{6}$

20) $\frac{5}{6}$

Answers

Ex. less

1. equal

2. less

3. equal

4. less

5. less

6. less

7. more

8. more

9. less

10. more

11. equal

12. less

13. less

14. more

15. less

16. less

17. more

18. less

19. less

20. more



Determine if the fraction shown is 'less', 'more' or 'equal' to half.

Answers

Ex) $\frac{2}{12}$

1) $\frac{5}{12}$

2) $\frac{1}{4}$

Ex. less

1. _____

2. _____

3) $\frac{2}{5}$

4) $\frac{4}{5}$

5) $\frac{3}{6}$

3. _____

4. _____

6) $\frac{9}{10}$

7) $\frac{4}{12}$

8) $\frac{8}{10}$

6. _____

7. _____

9) $\frac{1}{5}$

10) $\frac{3}{12}$

11) $\frac{1}{8}$

9. _____

10. _____

11. _____

12) $\frac{2}{3}$

13) $\frac{3}{5}$

14) $\frac{1}{6}$

12. _____

13. _____

14. _____

15) $\frac{2}{8}$

16) $\frac{6}{8}$

17) $\frac{11}{12}$

15. _____

16. _____

17. _____

18) $\frac{5}{6}$

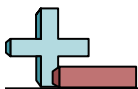
19) $\frac{5}{10}$

20) $\frac{2}{4}$

18. _____

19. _____

20. _____



Determine if the fraction shown is 'less', 'more' or 'equal' to half.

Ex) $\frac{2}{12}$

1) $\frac{5}{12}$

2) $\frac{1}{4}$

3) $\frac{2}{5}$

4) $\frac{4}{5}$

5) $\frac{3}{6}$

6) $\frac{9}{10}$

7) $\frac{4}{12}$

8) $\frac{8}{10}$

9) $\frac{1}{5}$

10) $\frac{3}{12}$

11) $\frac{1}{8}$

12) $\frac{2}{3}$

13) $\frac{3}{5}$

14) $\frac{1}{6}$

15) $\frac{2}{8}$

16) $\frac{6}{8}$

17) $\frac{11}{12}$

18) $\frac{5}{6}$

19) $\frac{5}{10}$

20) $\frac{2}{4}$

Answers

Ex. less

1. less

2. less

3. less

4. more

5. equal

6. more

7. less

8. more

9. less

10. less

11. less

12. more

13. more

14. less

15. less

16. more

17. more

18. more

19. equal

20. equal



Determine if the fraction shown is 'less', 'more' or 'equal' to half.

Answers

Ex) $\frac{3}{5}$

1) $\frac{1}{3}$

2) $\frac{2}{3}$

Ex. more

1. _____

2. _____

3) $\frac{3}{4}$

4) $\frac{4}{6}$

5) $\frac{8}{12}$

3. _____

4. _____

6) $\frac{8}{10}$

7) $\frac{1}{4}$

8) $\frac{2}{12}$

6. _____

7. _____

9) $\frac{10}{12}$

10) $\frac{2}{5}$

11) $\frac{1}{5}$

9. _____

10. _____

11. _____

12) $\frac{9}{12}$

13) $\frac{1}{6}$

14) $\frac{1}{8}$

12. _____

13. _____

14. _____

15) $\frac{5}{12}$

16) $\frac{3}{6}$

17) $\frac{6}{12}$

15. _____

16. _____

17. _____

18) $\frac{6}{10}$

19) $\frac{9}{10}$

20) $\frac{4}{12}$

18. _____

19. _____

20. _____



Determine if the fraction shown is 'less', 'more' or 'equal' to half.

Ex) $\frac{3}{5}$

1) $\frac{1}{3}$

2) $\frac{2}{3}$

3) $\frac{3}{4}$

4) $\frac{4}{6}$

5) $\frac{8}{12}$

6) $\frac{8}{10}$

7) $\frac{1}{4}$

8) $\frac{2}{12}$

9) $\frac{10}{12}$

10) $\frac{2}{5}$

11) $\frac{1}{5}$

12) $\frac{9}{12}$

13) $\frac{1}{6}$

14) $\frac{1}{8}$

15) $\frac{5}{12}$

16) $\frac{3}{6}$

17) $\frac{6}{12}$

18) $\frac{6}{10}$

19) $\frac{9}{10}$

20) $\frac{4}{12}$

Answers

Ex. more

1. less

2. more

3. more

4. more

5. more

6. more

7. less

8. less

9. more

10. less

11. less

12. more

13. less

14. less

15. less

16. equal

17. equal

18. more

19. more

20. less



Determine if the fraction shown is 'less', 'more' or 'equal' to half.

Answers

Ex) $\frac{2}{8}$

1) $\frac{1}{4}$

2) $\frac{2}{5}$

Ex. less

1. _____

2. _____

3) $\frac{1}{6}$

4) $\frac{9}{12}$

5) $\frac{2}{3}$

3. _____

4. _____

6) $\frac{3}{4}$

7) $\frac{3}{6}$

8) $\frac{2}{6}$

6. _____

7. _____

9) $\frac{4}{6}$

10) $\frac{10}{12}$

11) $\frac{5}{8}$

9. _____

10. _____

12) $\frac{1}{3}$

13) $\frac{3}{5}$

14) $\frac{6}{10}$

12. _____

13. _____

15) $\frac{3}{12}$

16) $\frac{4}{8}$

17) $\frac{2}{4}$

15. _____

16. _____

17. _____

18) $\frac{11}{12}$

19) $\frac{5}{12}$

20) $\frac{1}{12}$

18. _____

19. _____

20. _____



Determine if the fraction shown is 'less', 'more' or 'equal' to half.

Ex) $\frac{2}{8}$

1) $\frac{1}{4}$

2) $\frac{2}{5}$

3) $\frac{1}{6}$

4) $\frac{9}{12}$

5) $\frac{2}{3}$

6) $\frac{3}{4}$

7) $\frac{3}{6}$

8) $\frac{2}{6}$

9) $\frac{4}{6}$

10) $\frac{10}{12}$

11) $\frac{5}{8}$

12) $\frac{1}{3}$

13) $\frac{3}{5}$

14) $\frac{6}{10}$

15) $\frac{3}{12}$

16) $\frac{4}{8}$

17) $\frac{2}{4}$

18) $\frac{11}{12}$

19) $\frac{5}{12}$

20) $\frac{1}{12}$

Answers

Ex. less

1. less

2. less

3. less

4. more

5. more

6. more

7. equal

8. less

9. more

10. more

11. more

12. less

13. more

14. more

15. less

16. equal

17. equal

18. more

19. less

20. less



Determine if the fraction shown is 'less', 'more' or 'equal' to half.

Answers

Ex) $\frac{1}{6}$

1) $\frac{8}{10}$

2) $\frac{4}{5}$

Ex. less

1. _____

2. _____

3) $\frac{1}{10}$

4) $\frac{7}{12}$

5) $\frac{2}{3}$

3. _____

4. _____

6) $\frac{2}{5}$

7) $\frac{1}{8}$

8) $\frac{8}{12}$

6. _____

7. _____

9) $\frac{3}{4}$

10) $\frac{1}{3}$

11) $\frac{1}{5}$

9. _____

10. _____

11. _____

12) $\frac{2}{8}$

13) $\frac{2}{6}$

14) $\frac{10}{12}$

12. _____

13. _____

14. _____

15) $\frac{6}{12}$

16) $\frac{2}{4}$

17) $\frac{4}{6}$

15. _____

16. _____

17. _____

18) $\frac{7}{8}$

19) $\frac{3}{6}$

20) $\frac{2}{10}$

18. _____

19. _____

20. _____



Determine if the fraction shown is 'less', 'more' or 'equal' to half.

Ex) $\frac{1}{6}$

1) $\frac{8}{10}$

2) $\frac{4}{5}$

3) $\frac{1}{10}$

4) $\frac{7}{12}$

5) $\frac{2}{3}$

6) $\frac{2}{5}$

7) $\frac{1}{8}$

8) $\frac{8}{12}$

9) $\frac{3}{4}$

10) $\frac{1}{3}$

11) $\frac{1}{5}$

12) $\frac{2}{8}$

13) $\frac{2}{6}$

14) $\frac{10}{12}$

15) $\frac{6}{12}$

16) $\frac{2}{4}$

17) $\frac{4}{6}$

18) $\frac{7}{8}$

19) $\frac{3}{6}$

20) $\frac{2}{10}$

Answers

Ex. less

1. more

2. more

3. less

4. more

5. more

6. less

7. less

8. more

9. more

10. less

11. less

12. less

13. less

14. more

15. equal

16. equal

17. more

18. more

19. equal

20. less